

31. Републичко такмичење, Београд 2023.

Тест – IX б категорија, I група

Име и презиме: _____

1. Уписивањем одговарајућих тонова допунити аликвотни низ од задатог тона:
(6 поена)

1 2 3 4 5 6 7 8 9 10 11 12 13 14 15 16

2. а) У линијски систем са датим кључевима уписати задате тонове:
(6 поена)

$1Cis$ ces^2 Fis es B $heses$

- б) Именовати тонове у датим кључевима, укључујући и октаву којој припадају:

3. Одредити величину и врсту свих интервала у датом двогласном примеру:
(13 поена)

4. а) Изградити акорде (квинтакорде и обртаје) ако је задати тон:
(7 поена)

терца терца кварта секста кварта басов тон секста

$P5$ $У5$ $D6$ $У6$ $M6$ $M6$ $У6$

3 3 4 3 4 3 4

б) На задатим тоновима изградити септакорде у правцу стрелице:

(14 поена)



ПУ7 ↓ П7 ↑ У7 ↑ ВД7 ↑ ММ7 ↓ ТУ7 ↑ 2У7 ↑

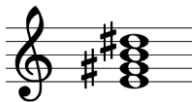
в) Одредити врсту датих септакорада и означити их скраћеницама:

(14 поена)




г) Одредити многостраност датог септакорда:

(6 поена)



5. а) Одредити врсту и многостраност тетрахорада:

(6 поена)




б) Претворити дату лествицу у хроматску додавањем међутонова:


(5 поена)



в) Препознати модусе, обележити карактеристичан интервал:


(10 поена)





6. Транспоновати мелодију у *g* - мол:

(7 поена)



Укупно _____ од 100 поена

Жири:

1. _____
2. _____
3. _____